

Л.А. ВИНОГРАДОВА (ЧИСТЯКОВА)

# Я ЧИТАЮ...

## МЕТОДИЧЕСКОЕ ПОСОБИЕ\*

Рабочая тетрадь по чтению  
Часть III



\* Продолжение. Начало см. в №№ 1–4 – 2008 г., №№ 1–4 – 2009 г., №№ 1–4 – 2010 г., № 1 – 2011 г.

Имя \_\_\_\_\_ Число \_\_\_\_\_ К/Д \_\_\_\_\_



**Прочитай рассказ:**

### ПРОГУЛКА.

Вот улей. В нём пчелиный рой.  
А вот муравей ползёт к муравейнику.  
Перейдём через ручей. Он узкий и мелкий.  
Вот на дереве сойка. А вон бежит заяка.  
В нашем лесу живут ёжик и мыши. Ёжик шипит, а мыши  
пищат.

Мама дома сделала чай с пирогом. Пойдём?

#### \* Вопросы:

1. Где живут пчёлы?
2. Где живёт муравей?
3. Какой ручей?
4. Как можно перейти мелкий ручей?
5. Где сидит сойка?
6. Кто ещё живёт в лесу?
7. Что мама приготовила дома?



Имя \_\_\_\_\_ Число \_\_\_\_\_ К/Д \_\_\_\_\_

**\* Посмотри на картинки. Придумай предложение к каждой из них, и у тебя получится рассказ:**



Имя \_\_\_\_\_ Число \_\_\_\_\_ К/Д \_\_\_\_\_


9.



10.



**\* А теперь твоя картинка! Кого ещё можно увидеть во время прогулки в лесу?**



**\* ТЫ МОЛОДЕЦ!**

Имя \_\_\_\_\_ Число \_\_\_\_\_ К/Д \_\_\_\_\_

**Прочитай рассказ:**

\* \* \*

Папа рассказал мне про планеты и звёзды. Земля, Венера, Марс — это планеты. А Солнце — это звезда. На небе есть созвездия — это скопление звёзд. Полярная звезда указывает на север.


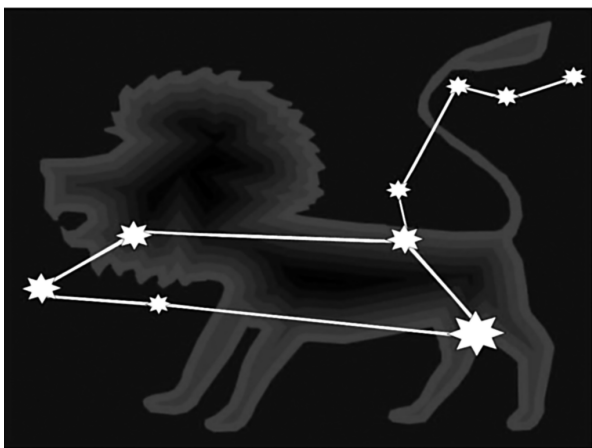
**\* Вопросы:**

1. Про что рассказал папа?
2. Про какие планеты ты узнал (а)?
3. На какой планете ты живёшь?
4. Что такое Солнце?
5. Как называются скопления звёзд?
6. На что указывает Полярная звезда?

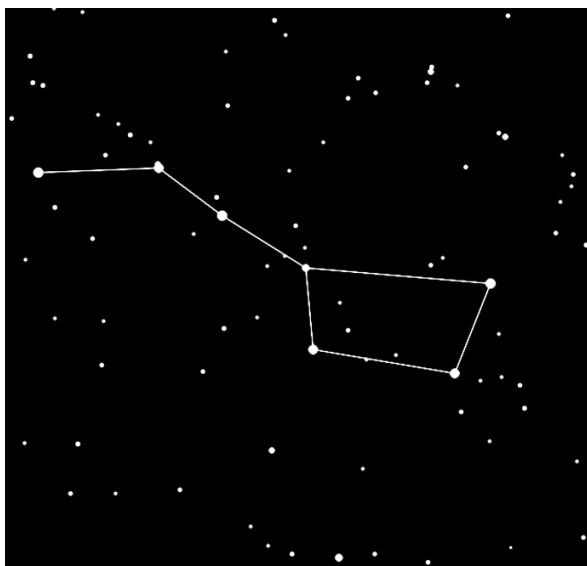


Имя \_\_\_\_\_ Число \_\_\_\_\_ К/Д \_\_\_\_\_

**\* Обведи карандашом два созвездия. Какое из них называется «Лев»? А «Овен»? Подпиши созвездия.**



**\* А это созвездие называется «Большая Медведица». На что оно похоже? Выбери и обведи картинку рядом.**





Имя \_\_\_\_\_ Число \_\_\_\_\_ К/Д \_\_\_\_\_

**\* А на этой картинке есть Полярная звезда. Она самая большая.  
Найди и обведи её.**



**\* Допиши предложение, выбрав подходящее слово:**

Северная звезда показывает на ...

Юг ↓

Север ↑

Восток →

Запад ←

**\* ТЫ МОЛОДЕЦ!**